

Lernkontrolle 5 / 4. Schuljahr / Aufgabenangebot

Thema: Sachrechnen, Geometrie, schriftliche Division

Kontrollaufgaben ZB 4: S. 78 - 87

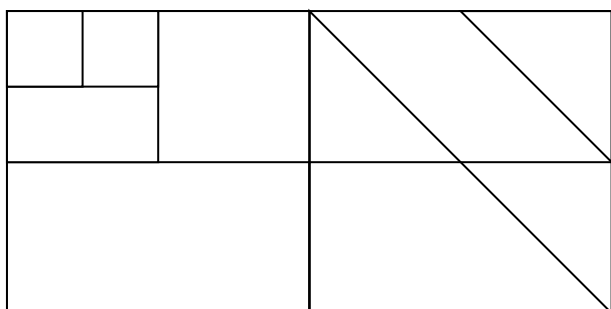
UNBEDINGT AUFGABENAUSWAHL TREFFEN

1. Geometrie: Geodreieck

S. 78 / 79

M/D

Zeichne diese Figur mit dem Geodreieck ab.

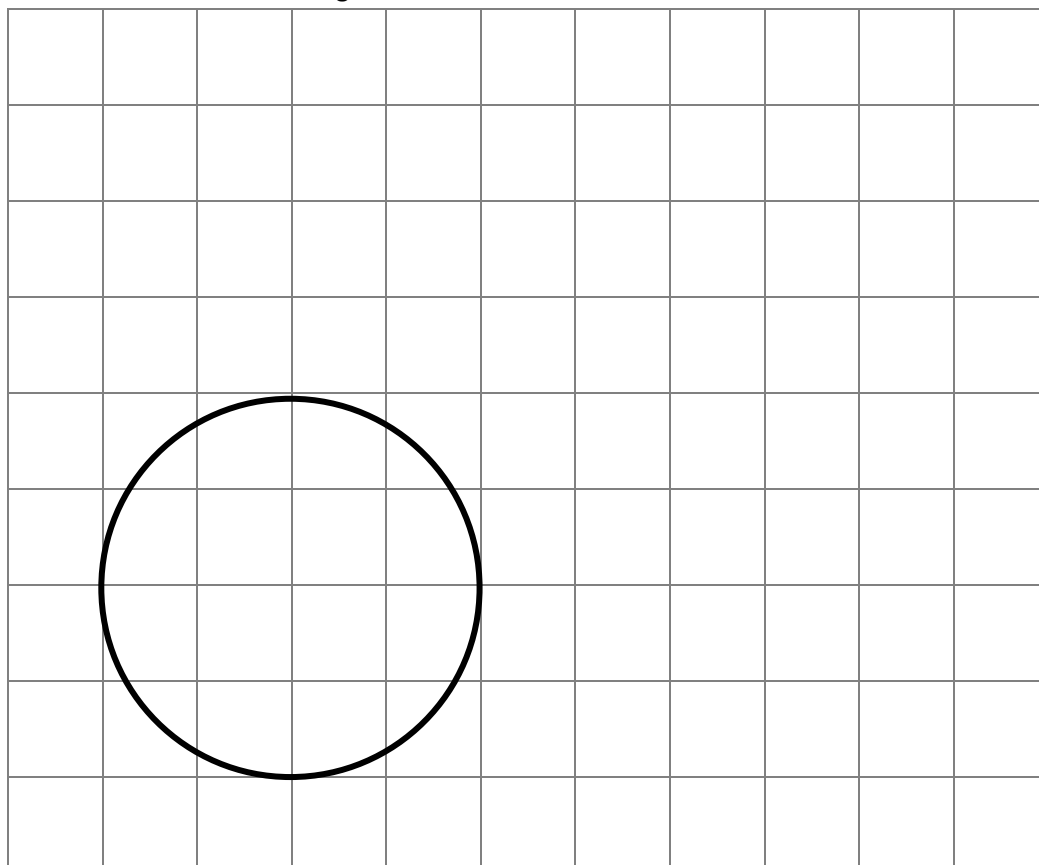
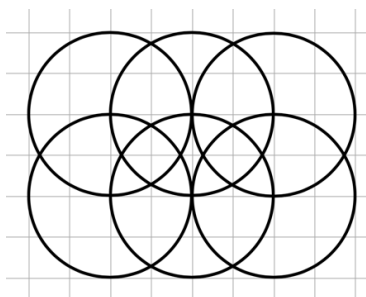


2. Geometrie: Zirkel

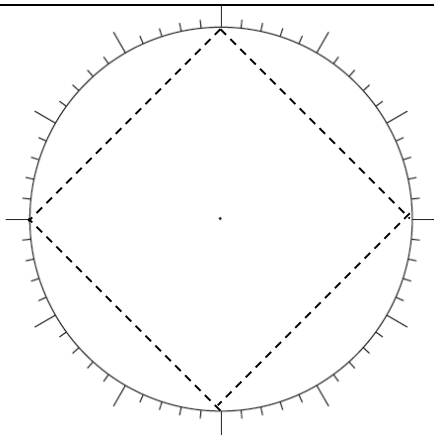
S. 78 / 79

M/D

Zeichne dieses Muster ab. Der erste Kreis ist schon gezeichnet.

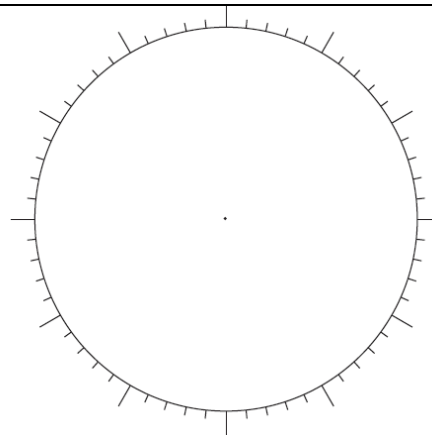


Teile die Zeichenuhr in gleiche Abschnitte und verbinde die Punkte.



In vier gleiche Abschnitte.

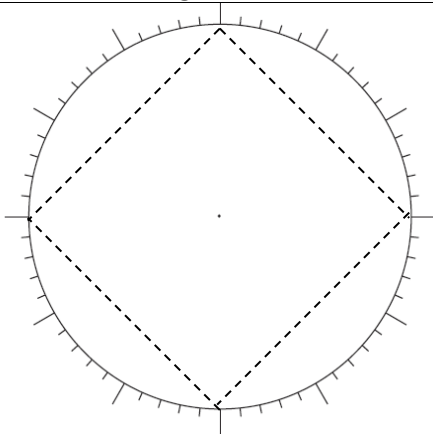
Ungefährer Umfang des Vielecks:
_____ cm.



In fünf gleiche Abschnitte.

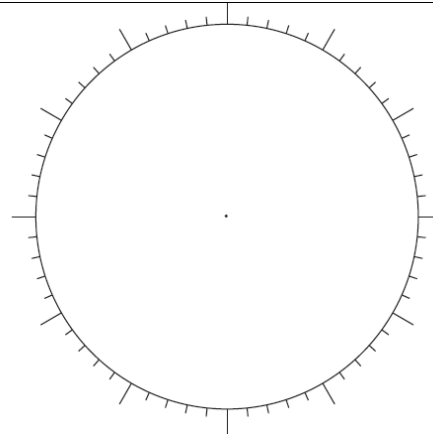
Ungefährer Umfang des Fünfecks:
_____ cm.

Teile die Zeichenuhr in gleiche Abschnitte und verbinde die Punkte.



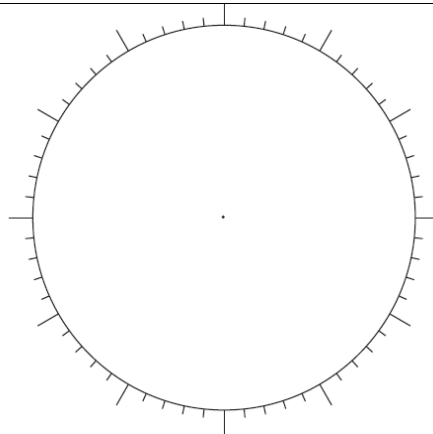
In vier gleiche Abschnitte.

Ungefäher Umfang des Quadrats:
_____ cm.



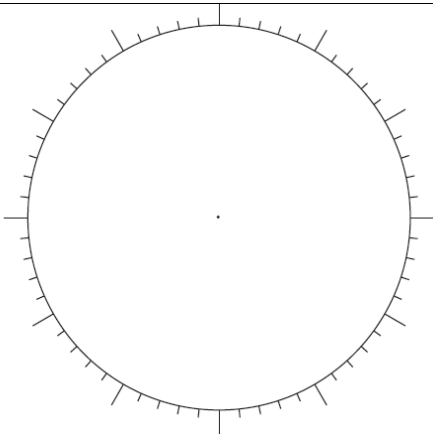
In sechs gleiche Abschnitte.

Ungefäher Umfang des Sechsecks:
_____ cm.



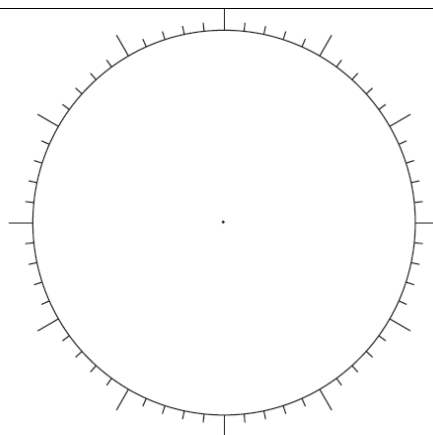
In drei gleiche Abschnitte.

Ungefäher Umfang des Dreiecks:
_____ cm.



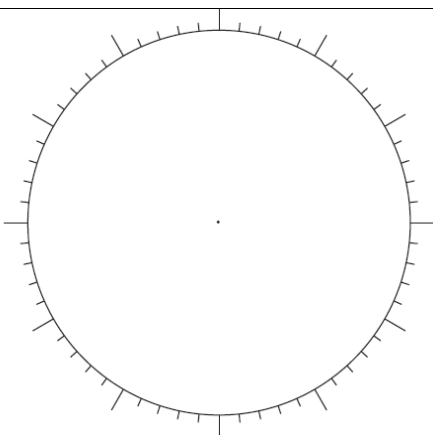
In acht gleiche Abschnitte.

Ungefäher Umfang des Achtecks:
_____ cm.



In fünf gleiche Abschnitte.

Ungefäher Umfang des Fünfecks:
_____ cm.



In zehn gleiche Abschnitte.

Ungefäher Umfang des Zehnecks:
_____ cm.

