



Bilde aus den vier Ziffern **3, 5, 7 und 9** zwei zweistellige Zahlen und multipliziere sie.
Suche das kleinste und das grösste Ergebnis. Beschreibe deine Überlegungen.



Bilde aus den vier Ziffern **2, 4, 5, 7** zwei zweistellige Zahlen und multipliziere sie.
Suche ein Ergebnis, das kleiner ist als 2000. Findest du mehrere?



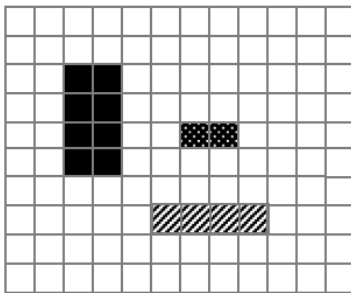
Ergänze die Preistabelle.

Holländischer Gouda

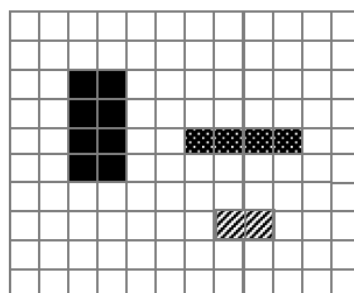
Gewicht	25 g	100g	425g	675 g	1 kg
Preis		2 Fr.			

Markiere auf jedem Plan das höchste Gebäude.

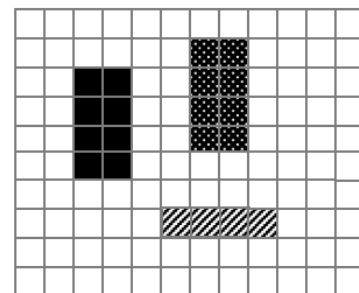
a.



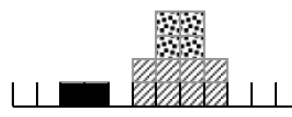
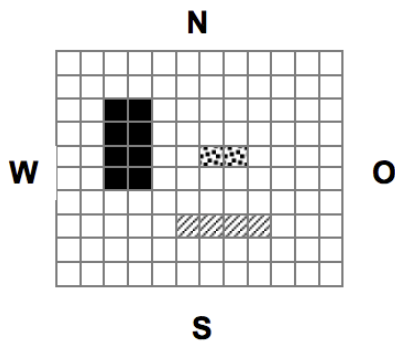
b.



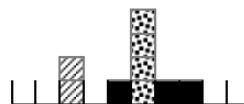
c.



Aus welcher Richtung siehst du diese zwei Seitenansichten?

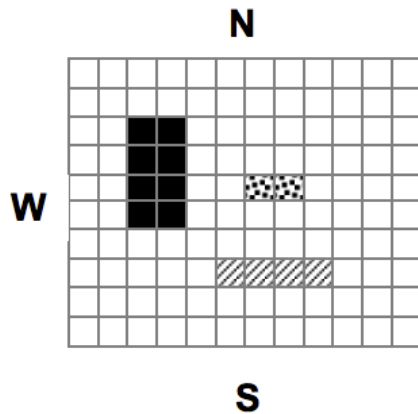


von _____

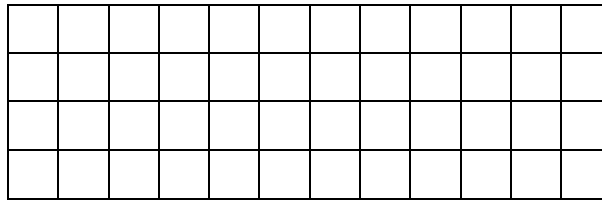


von _____

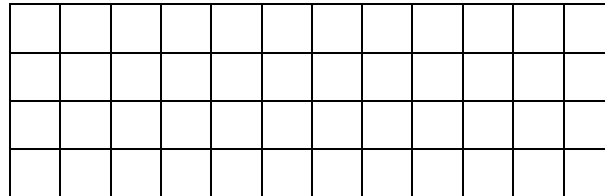
Zeichne die zwei Seitenansichten von Süden und von Osten.



Von Norden:



Von Osten:



- Wie viel kostet jeweils 1kg der beiden Früchte?
- Wie viel bezahlst du, wenn du diese zwei Früchte einkaufst?
- Wann hast du diesen Einkauf gemacht? (Tag, Monat und Jahr)

